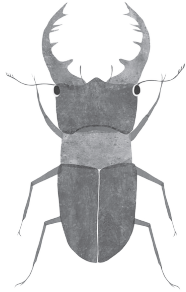


こんちゅう

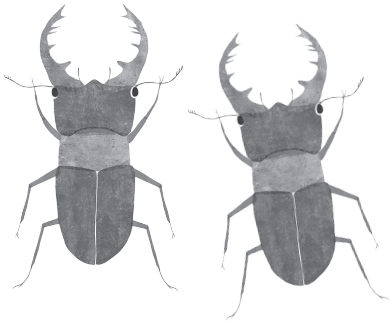
昆虫さんすう

よ しき
もんだいを読んで、すうじや式をかいてみよう。



あし なんほん
くわがたくんの足は何本ですか？

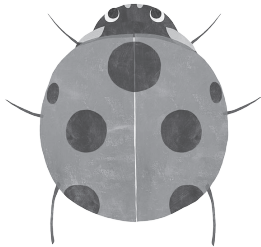
こたえ



くわがたくんが2ひきいます。
あし なんほん
足はぜんぶで何本ですか？

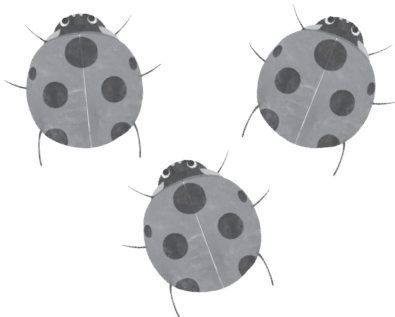
しき

こたえ



てんとうむしちゃんのもようは
なん
何こありますか？

こたえ



てんとうむしちゃんが3びきいます。
もようは ぜんぶでなん
何こありますか？

しき

こたえ

このほかにも「ぬりえ」や「ドリル」がたくさんあるよ！

香川照之プロデュース 昆虫と学びのショッピングポータルサイト



INSECT
MARKET

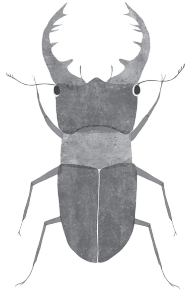
インセクトマーケット
<https://insect.market/>



こんちゅう

昆虫さんすう こたえ

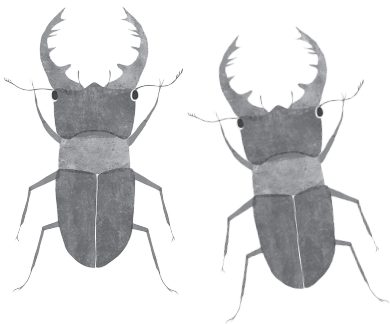
よ もんだいを読んで、しき すうじや式をかいてみよう。



あし なんほん
くわがたくんの足は何本ですか？

こたえ

6本



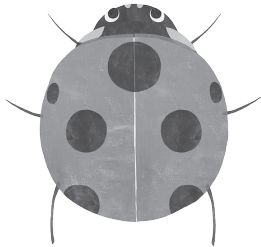
くわがたくんが2ひきいます。
あし なんほん
足はぜんぶで何本ですか？

しき

$6+6=12$ または $6\times 2=12$

こたえ

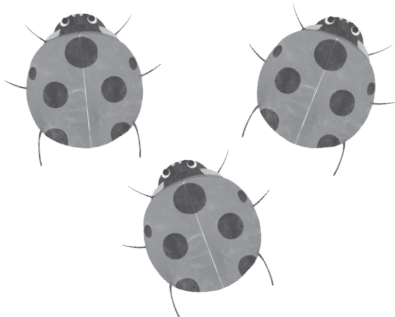
12本



てんとうむしちゃんのもようは
なん
何こありますか？

こたえ

7こ



てんとうむしちゃんが3びきいます。
もようは なん ぜんぶで何こありますか？

しき

$7+7+7=21$ または $7\times 3=21$

こたえ

21こ

このほかにも「ぬりえ」や「ドリル」がたくさんあるよ！

香川照之プロデュース 昆虫と学びのショッピングポータルサイト



INSECT
MARKET

インセクトマーケット
<https://insect.market/>

